



Coordenadas en el plano

Nombre: _____ Curso: 4° _____

E-mail: _____

Hola niños y niñas de cuarto básico, espero se encuentren muy bien junto a sus familias. No olvides que si tienes dudas te puedes poner en contacto conmigo en la siguiente dirección de correo electrónico jjimenezcsch@gmail.com o pueden buscarme en la dirección de Facebook Quinto Básico Csch. Mucho éxito!!!



Te presento el objetivo de trabajo de la siguiente guía.

Objetivo: Describir la localización absoluta de un objeto en un mapa simple con coordenadas informales y la localización relativa en relación a otros objetos, manifestando una actitud positiva sobre sí mismo.

I: Para comenzar responde la siguiente pregunta.

a) ¿Por qué razón crees que es importante que sepamos interpretar un mapa?

II: Coordenadas en el plano.

Nos permiten localizar un punto en el espacio. Por medio de dos ejes, uno horizontal y otro vertical. Siempre se debe localizar primero eje horizontal y posteriormente el vertical, puesto que les permitirá en un futuro ubicar correctamente punto en el plano cartesiano.





Comencemos... A continuación se presenta un plano, las coordenadas para cada elemento serán las siguientes:

Playa: C,4

Delfín: B,3

Barco: F,2







Isla: A,1

5						
4						
3						
2						
1						
	A	B	C	D	E	F







III. A practicar!!!

Objetivo: Localizar objetos en el plano, a partir de coordenadas expresadas como un par con letra y número.

A. Observa las imágenes y escribe las coordenadas en el espacio correspondiente. 1 punto cada una. 6 puntos totales.

	A	B	C	D	E	F
1						
2						
3						
4						
5						
6						

Simbología

-  Casa
-  Panadería
-  Colegio
-  Cancha de fútbol
-  Restaurante
-  Iglesia

• Casa (____, ____)

• Iglesia (____, ____)

• Restaurante (____, ____)

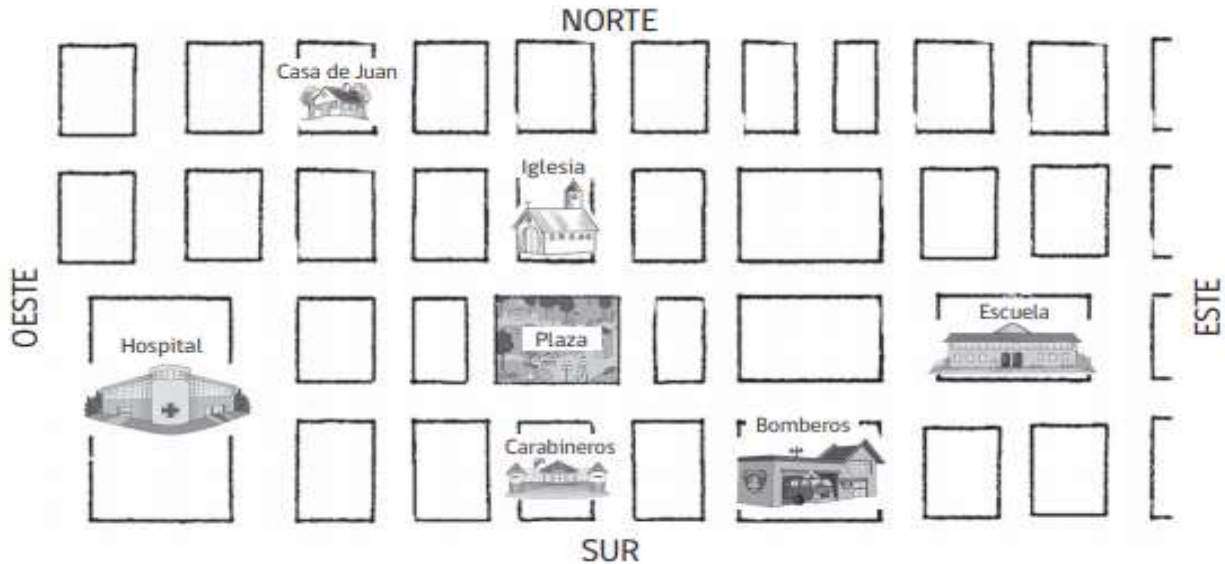
• Panadería (____, ____)

• Colegio (____, ____)

• Cancha fútbol (____, ____)

Objetivo: Reconocer y comunicar los extremos de la ubicación de un área en un mapa.

B. Observa el siguiente mapa y posteriormente responde las preguntas asociadas a él. 1 punto cada una. 5 punto totales.



- a) El hospital está hacia el _____ de la plaza.
- b) La plaza está hacia el _____ de la escuela.
- c) La iglesia está _____ de la plaza.
- d) Los bomberos están hacia _____ del mapa.
- e) La escuela está al _____ del hospital.

IV: Para terminar.

- a) ¿Qué instrucción le darías a alguien que no conoce el sector donde tú vives para ir desde tu casa al kiosco que frecuentas?

- b) ¿Cómo evaluarías tu desempeño en la guía de trabajo? ¿Te costó hacer alguna parte? Explica.

- c) ¿Quién de tu familia te ayudó a realizar la guía, ya sea aclarando preguntas, ayudándote a leer?
