



## Guía Segundo Ciclo

Título: Potenciar Funciones Cognitivas 8° básico

Habilidades para trabajar: Inferir, relacionar ideas, descubrir, leer, observar y analizar diversas situaciones para potenciar nuestro pensamiento.

Sí bien es importante fortalecer los hábitos de estudio, el trabajar la atención es uno de los entrenamientos fundamentales, ya que, distracciones pueden interferir en tu propio aprendizaje, por tanto es necesario seguir desarrollando nuestro pensamiento.

A continuación les presento actividades prácticas de ejercicios que he recopilado para ustedes y en los que se trabaja tanto la atención como las funciones ejecutivas, el lenguaje, entre otras habilidades que deberás utilizar en cada caso.

Es importante que lea con atención las **indicaciones** de los ejercicios, ya que, estas son **precisas**.

Debe **detenerse** antes de responder cualquier ejercicio que se le presente.

Para ello utilizamos un **lenguaje claro** para comenzar su lectura.

Consiste en un trabajo **estructurado y dividido** para potenciar en habilidades las que irán coincidiendo en el transcurso de las actividades realizadas.

Es muy interesante aprovechar sus intereses, ya que, al conocer sus preferencias las podemos utilizar para favorecer la concentración y la atención comenzando principalmente con estas habilidades.

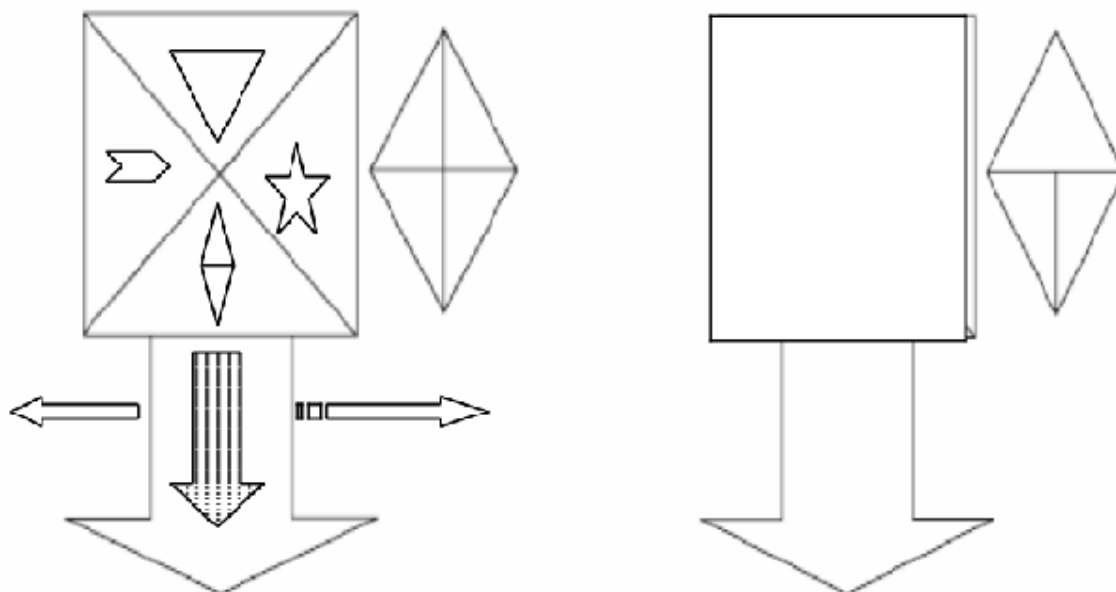
Utilizar actividades variadas en cada momento, para no permitir la fatiga y el aburrimiento. Éxito!



1. Redondee con un círculo el grupo de palabras exactas a **pbtqg**


pgqtb pbtqg pqgtb pbtqg pgqtb pbtqg qbtgp pqgtb pgqtb pbtqg pbtqg  
qbtgp pbtgq pgqtb pqgtb pbtqg pgqtb pgqtb pbtqg pqgtb pbtgq pgqtb  
pqgtb pgqtb pbtqg pqgtb pbtgq pqgtb pqgtb pgqtb pgqtb pbtgq pgqtb  
pqgtb pqgtb pgqtb pbtqg pbtqg qbtgp pbtgq qbtgp pbtgq pgqtb pbtgq  
pgqtb pqgtb pqgtb pqgtb pqgtb pbtqg

2. A continuación observe los dos modelos de paneles, ahora traté de dibujar exactamente los mismos dibujos que se presentan el modelo de lado izquierdo en el modelo del lado derecho.






3. Ahora nuevamente observe detenidamente los dos diagramas gráficos, seguidamente traté de dibujar exactamente los mismos dibujos que se presentan el modelo de lado izquierdo en el modelo del lado derecho.





4. Escriba con letras las cifras numéricas que se presentan en el siguiente crucigrama





5. Ejercicio 1: En la presente sopa de letras, busque conceptos, cuerpos y figuras geométricas: Línea curva, rectángulo, pentágono, circunferencia, cubo, línea recta, triángulo, hexágono, círculo, cilindro.

e	o	o	p	e	n	t	á	g	o	n	o	j	k
l	í	n	e	a	r	e	c	t	a	f	l	p	a
í	z	a	p	d	m	x	h	i	u	v	u	i	c
n	e	q	w	e	c	r	t	u	y	i	g	o	u
e	p	a	s	d	f	u	h	o	j	e	n	i	a
a	k	l	ñ	o	z	x	b	c	e	v	á	b	d
c	h	e	x	á	g	o	n	o	o	q	t	w	r
u	e	r	y	t	u	i	p	l	o	ñ	c	i	a
r	z	x	a	c	d	v	u	g	o	b	e	l	d
v	a	s	d	e	i	c	o	ñ	p	u	r	c	o
a	q	u	w	y	r	p	i	u	k	j	a	p	u
u	u	a	r	i	t	m	a	o	f	u	y	d	m
c	i	r	c	u	n	f	e	r	e	n	c	i	a

Responda:

1) ¿Qué son específicamente los conceptos geométricos, y qué diferencia existe entre una figura y cuerpo geométrico .... Justifique su respuesta

---

---

---

---

---

---

---



6. Ejercicio 2 : Ahora busque los siguientes conceptos geométricos: LADO, ALTURA, BASE, DIAGONAL, RADIO, PERÍMETRO, ÁREA, VOLUMEN

a	m	i	t	u	a	l	a	m	o	f	g	d	p
d	i	a	s	t	o	v	s	i	g	u	e	x	e
i	f	a	l	t	a	o	b	e	a	m	p	e	r
o	j	a	l	a	r	o	u	s	l	c	i	h	i
s	o	z	u	a	w	l	e	a	t	a	v	o	m
j	i	p	l	ñ	d	t	n	t	u	t	o	l	e
u	d	c	u	m	s	o	n	c	r	a	l	a	t
a	a	q	a	i	g	n	m	ñ	a	l	u	b	r
n	r	m	p	a	o	p	a	a	n	i	m	o	o
u	u	s	i	i	a	m	ñ	u	b	i	e	n	k
r	e	d	u	e	j	b	a	s	e	x	n	g	i
d	p	e	r	f	e	c	t	o	s	p	a	u	l
j	u	a	n	o	d	i	a	m	e	t	r	o	a

1) ¿Cuáles de los conceptos geométricos, anteriores relacionarías entre sí? ¿Por qué?

---

---

---

---

---

---

---



7. Realice una lectura rápida del siguiente listado de palabras, y mencione todas aquellas que se repiten nuevamente.

mostrador, flauta, café, callar, pañuelo,  
toser, abrigo, tabaco, juguete, sobre,  
cama, medias, carta, salir, separar,  
pintar, cuento, tinta, hojas, abuela,  
cántaro, porrón, salmón, escultor, turrón,  
salir, sofá, puede, autor, piedra,  
entrar, flauta, mesa, novela, seda  
avión, caminar, camión, flauta, color,  
saco, pecho, tapiz, juego, antiguo,  
canción, luz, muñeca, amigo, padre,  
amor, libreta, disco, instinto, pastel,  
dibujo, manta, elefante, salir, rojo,  
látigo, correr, carpeta, lluvia, planta,  
almohada, saltar, yeso, gato, hermano,  
lago, canto, planta, silla, disco,  
puente, miro, pizarra, tabla, ruso.

Las palabras repetidas son:

---

---

---

---

---



8. Desafíos: Lea detenidamente con la máxima concentración, y resuelva el Enigma que se le presenta:

### El enigma del investigador

Un investigador, que dirige una excavación arqueológica cerca de la ciudad de Roma, se encuentra una vasija en la que están grabados exactamente estos datos: "Roma, annus 23". Muy contento, se marcha al Museo y se la enseña al director. El director examina la vasija y dice: "Me decepciona usted. Esta vasija es una tomadura de pelo". ¿Cómo ha podido deducir esto el director?

---

---

---

---

9. Lea con mucha atención y resuelva los siguientes problemas simples que se presentan a continuación:

Si lanzas un dado con las seis caras numeradas del 1 al 6 y anotas los resultados, se podrían dar estos casos:

<b>A</b> Puede salir un numero menor o igual a 5	<b>B</b> Puede salir el 6	<b>C</b> Puede salir un numero par
---	------------------------------	---------------------------------------

Si ordenas los casos de MENOS PROBABLE A MÁS PROBABLE cual es la serie correcta:

- a) A-B-C
- b) B-C-A
- c) C-B-A





10. Observe y analice la tabla de datos sobre el ranking de ATP Tenistas para luego extraer información explícita y completar un recuadro de preguntas que se le presentarán más adelante:

Ranking, Nombre, País	Puntos	Movimiento	Torneos Jugados
1 Djokovic, Novak (SRB)	13.630	0	19
2 Nadal, Rafael (ESP)	9.595	0	20
3 Federer, Roger (SUI)	8.010	0	19
4 Murray, Andy (GBR)	7.380	0	20
5 Ferrer, David (ESP)	4.925	0	23
6 Tsonga, Jo-Wilfried (FRA)	4.335	0	25
7 Berdych, Tomas (CZE)	3.700	0	23
8 Fish, Mardy (USA)	2.965	0	23
9 Tipsarevic, Janko (SRB)	2.655	0	28
10 Almagro, Nicolas (ESP)	2.380	0	28
11 del Potro, Juan Martín (ARG)	2.315	0	22
12 Soderling, Robin (SWE)	2.120	1	21
13 Dolgopolov, Alexandr (UKR)	2.030	1	29
14 Simon, Gilles (FRA)	2.005	-2	27
15 Monfils, Gael (FRA)	1.970	0	24
16 Roddick, Andy (USA)	1.880	0	19
17 Isner, John (USA)	1.800	0	25
18 Gasquet, Richard (FRA)	1.765	0	20
19 Lopez, Feliciano (ESP)	1.755	0	27
20 Cilic, Marin (CRO)	1.665	0	24
21 Mayer, Florian (GER)	1.630	1	26
22 Wawrinka, Stanislas (SUI)	1.615	1	23
23 Troicki, Viktor (SRB)	1.595	-2	26
24 Verdasco, Fernando (ESP)	1.550	0	25
25 Raonic, Milos (CAN)	1.460	0	24
26 Nishikori, Kei (JPN)	1.410	0	25
27 Mónaco, Juan (ARG)	1.335	0	25
28 Granollers, Marcel (ESP)	1.315	0	25
29 Chela, Juan Ignacio (ARG)	1.270	0	28
30 Ljubicic, Ivan (CRO)	1.270	0	22
31 Stepanek, Radek (CZE)	1.230	0	27
32 Anderson, Kevin (RSA)	1.190	0	28
33 Melzer, Jurgen (AUT)	1.170	0	25
34 Bogomolov Jr., Alex (RUS)	1.135	0	32
35 Youzhny, Mikhail (RUS)	1.105	0	27
36 Dodig, Ivan (CRO)	1.065	0	27
37 Bellucci, Thomaz (BRA)	1.060	1	26
38 Tomic, Bernard (AUS)	1.048	-1	20
39 Benneteau, Julien (FRA)	1.030	10	28
40 Seppi, Andreas (ITA)	1.015	-1	28
41 Kohlschreiber, Philipp (GER)	1.005	1	27
42 Young, Donald (USA)	1.004	-2	25
43 Tursunov, Dmitry (RUS)	988	-2	27
44 Baghdatis, Marcos (CYP)	985	-1	28
45 Andújar, Pablo (ESP)	920	-1	33
46 Llodra, Michael (FRA)	915	-1	23



<b>N°</b>	<b>Preguntas</b>	<b>Respuestas</b>
<b>1</b>	¿Cuántos puntos tiene Seppi Andreas?	
<b>2</b>	¿Cuántos torneos ha jugado Mikhail youzhny?	
<b>3</b>	¿Cuántos puntos tiene Nicolás Almagro?	
<b>4</b>	¿Cuántos puntos tiene Richard Gasquet?	
<b>5</b>	¿Cuántos puntos tiene Feliciano López?	
<b>6</b>	¿Cuántos torneos ha jugado Ferrer David?	
<b>7</b>	¿Cuántos puntos tiene Florian Mayer ?	
<b>8</b>	¿En cuántos torneos ha jugado Gasquet Richard?	
<b>9</b>	¿De qué nacionalidad es Simon Gilles?	
<b>10</b>	¿Quién es el penúltimo jugador del Ranking?	
<b>11</b>	¿Quién ocupa el puesto 35 ?	
<b>12</b>	¿Cuántos puntos tiene el jugador 15?	
<b>13</b>	¿Cuántos torneos ha jugado el número 25 del ranking?	
<b>14</b>	Posición del jugador Bellucci Thomaz	
<b>15</b>	Torneos jugados del jugador en posición 11	
<b>16</b>	Puntos del jugador en posición 16	
<b>17</b>	Posición del jugador Kevin Anderson	